

Lepo pozdravljeni, DEVETOŠOLCI 😊 Čeprav smo doma, tedni hitro bežijo, kaj ne? Resnično upam, da ste vsi zdravi, POLNI POZITIVNE ENERGIJE in da se redno slišite z vrstniki ter tako ohranjate izredno pomembne socialne stike.

Hvala vsem, ki ste mi v preteklem tednu poslali povratne informacije o vašem delu. Vsakega odziva posebej sem iskreno vesela in skrbno jih beležim. Pred vami je UTRJEVANJA ZNANJA.

Gradivo tega tedna je sestavljeno iz dveh sklopov:

A) obvezno delo – UTRJEVANJE ZNANJA;

B) neobvezne GEOGRAFSKE NOVICE.

Ko končate delo se mi v kratkem elektronskem sporočilu oglasite - najkasneje do petka, 17. aprila (do 14. ure). Napišite mi kako je šlo utrjevanje znanja in katero vprašanje vam je povzročilo največje težave. Še vedno sledimo geografskim novicam in čakam na vašo! Pa kaj na temo koronavirusa lahko ustvarite, če še niste, pa vam ostaja čas. Ob nerazumevanju učne snovi, navodil in nalog se lahko kadarkoli obrnete name, preko spodaj zapisanega elektronskega naslova:

[geografija.zalec@gmail.com](mailto:geografija.zalec@gmail.com) (učiteljica Tina Seibert)

V naslov sporočila (Zadeva) dosledno zapišite svoje podatke: IME PRIIMEK RAZRED

### **Vklopi geografsko razmišljanje in akcija!**

---

**A) Pred tabo je utrjevanje znanja pridobljenega pri urah geografije v tem šolskem letu. Če imaš možnost, si spodnje naloge natisni in postopoma reši. Če te možnosti nimaš – nič hudega, si vprašanja in odgovore smiselno, skrajšano, zapiši v zvezek. Mogoče si izpišeš le naloge, na katere nisi znal odgovoriti.**

**OBVEZNO DELO**

# UTRJEVANJE ZNANJA

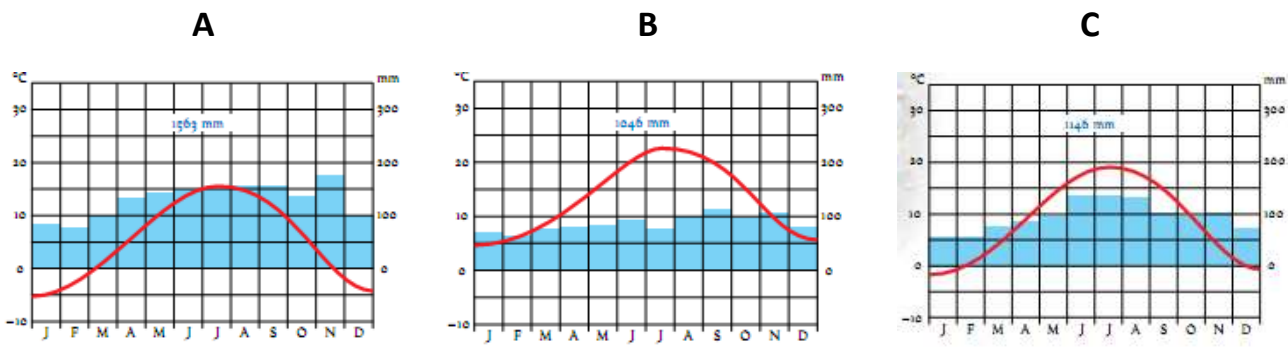
## 1. Obkroži črko pred pravilnim odgovorom.

<b>V kateri del Evrope spada Slovenija?</b> a) K Južni Evropi. b) K Jugovzhodni Evropi. c) K Srednji Evropi. č) K Zahodni Evropi.	<b>V katerem časovnem pasu je Slovenija?</b> a) Greenwiški srednji čas b) 2 uri pred greenwiškim časom c) 2 uri za greenwiškim časom č) srednje evropski čas (1 uro za GMT)
<b>Slovenija je postala članica Evropske unije leta:</b> a) 2003 b) 2004 c) 2006 č) 2007	<b>Dan samostojnosti in enotnosti praznujemo:</b> a) 25. 12. b) 26. 6. c) 25. 6. č) 26. 12.

## 2. Pravilno dopolni trditve.

- a) Na ozemlju Slovenije se stikajo štiri velike naravne enote: \_\_\_\_\_, \_\_\_\_\_, \_\_\_\_\_ in \_\_\_\_\_.
- b) Glede na nastanek v Sloveniji prevladujejo \_\_\_\_\_ kamnine.
- c) Večji del Slovenije ima \_\_\_\_\_ podnebje.

## 3. Oglej si klimograme in odgovori na vprašanja.



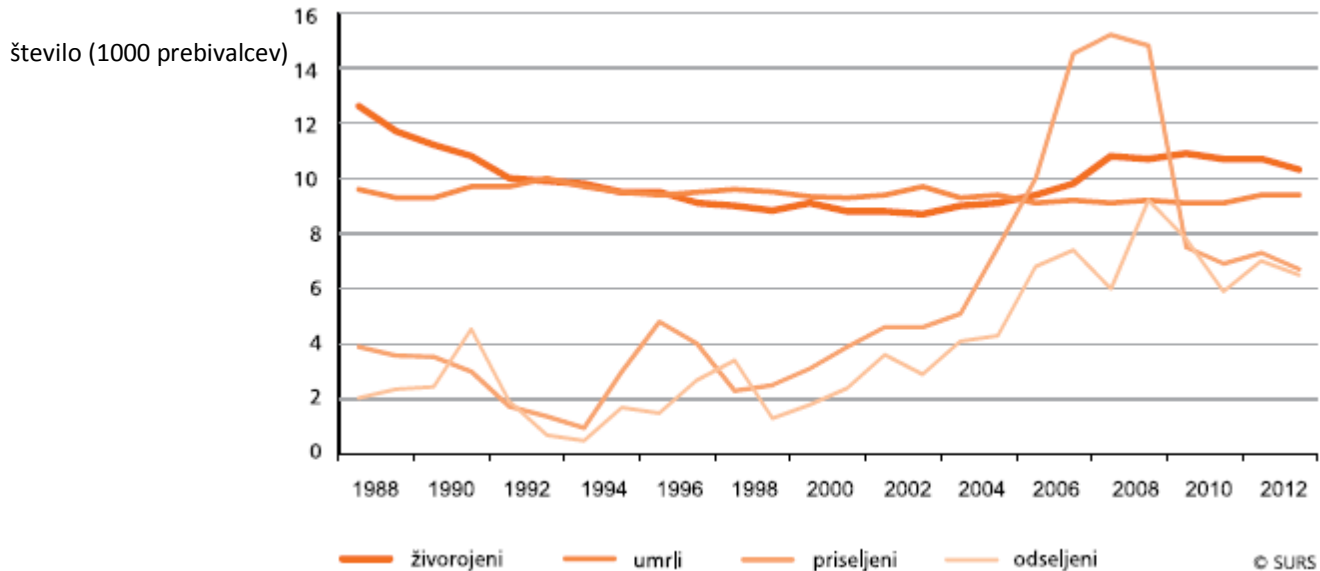
- a) Kateri izmed klimogramov prikazuje značilnosti zmerno sredozemskega podnebja? \_\_\_\_\_
- c) Kateri izmed klimogramov ima najnižjo povprečno temperaturo januarja? \_\_\_\_\_
- č) Razlika med najvišjo in najnižjo temperaturo v kraju C je \_\_\_\_\_ stopinj celzija.
- d) V katerem letnem času je v kraju C največ padavin? \_\_\_\_\_.

## 4. Poveži poimenovanja posamezne slovenske skupnosti zunaj meja Slovenije z ustrezno razlago.

Prenesi črko iz desnega stolpca na ustrezno mesto v levi stolpec.

- |                            |  |
|----------------------------|--|
| _____ SLOVENCİ V ZAMEJSTVU | A Osebe, ki so se začasno odselile v tujino.                                 |
| _____ ZDOMCI               | B Osebe, ki so se za stalno izselile v tujino.                               |
| _____ IZSELJENCI           | C Pripadniki slovenske narodne skupnosti v Italiji, Avstriji, na Madžarskem. |

## 5. Oglej si graf in odgovori na vprašanja.



Vir: Statopis, statistični pregled Slovenije leta 2014, R Slovenija, Statistični urad RS, Ljubljana, 2014

a) Od česa je odvisna rast prebivalstva v posamezni državi?

---

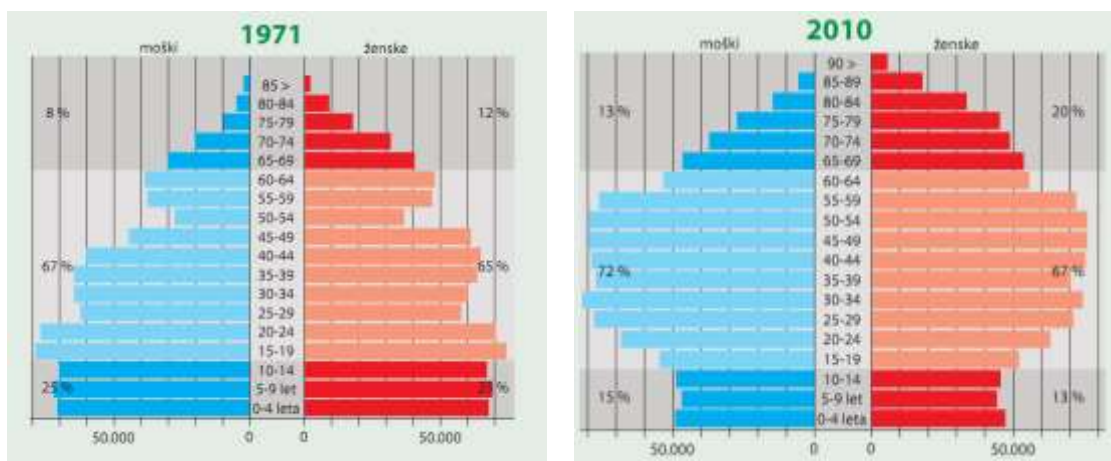


---

b) V katerih letih je bil naravni prirastek negativen? \_\_\_\_\_

c) Navedi vzrok za to, da je število prebivalstva v Sloveniji kljub negativnemu naravnemu prirastku vseskozi naraščalo. \_\_\_\_\_

## 6. Oglej si grafa in odgovori na vprašanja.



a) Poimenuj grafa: \_\_\_\_\_

b) Kaj lahko razberemo iz tovrstnih grafov? \_\_\_\_\_

---

c) Prebivalstvo Slovenije se stara. Ustno utemelji to trditev s pomočjo podatkov, ki jih razbereš iz grafov.

č) Navedi dve težavi, s katerima se bo v prihodnosti srečevala Slovenija zaradi staranja prebivalstva.

-

-

---

---

7. Na podeželju so se razvili različni tipi naselij. Oglej si fotografiji in poimenuj tipa naselja na fotografiji.



8. Sestava slovenskega gospodarstva se je v zadnjih sto letih zelo spremenila.

Med navedenimi gospodarskimi dejavnostmi: a) obkroži primarne dejavnosti,

b) podčrtaj sekundarne dejavnosti.

INDUSTRIJA      TRGOVINA      ŠOLSTVO      KMETIJSTVO      GRADBENIŠTVO  
TURIZEM      GOZDRASTVO      ZDRAVSTVO      BANČNIŠTVO

c) V katero skupino spadajo dejavnosti, ki niso obkrožene ali podčrtane? \_\_\_\_\_

9. Po osamosvojitvi se je slovensko gospodarstvo soočilo z velikimi težavami. Napiši dva vzroka za gospodarsko krizo Slovenije po osamosvojitvi.

---

---

10. Za ravnine na severovzhodu Slovenije je značilno intenzivno kmetijstvo. Pojasni razliko med ekstenzivnim in intenzivnim kmetijstvom.

---

---

---

11. Industrija je pomembna gospodarska dejavnost, ki je še pred 30 leti prispevala več kot polovico BDP. Naštej tri industrijske panoge, ki imajo po številu zaposlenih in prihodkih največjo vlogo v Sloveniji.

---

## 12. Energija je pogoj za gospodarski razvoj in sodobni način življenja.

a) Obkroži obnovljive energijske vire.

LIGNIT

VODA

NAFTA

RJAVI PREMOG

SONCE

LES

ZEMELJSKI PLIN

VETER

b) Iz preglednice izpiši neobnovljiv vir energije, ki ga pridobivamo v Sloveniji. \_\_\_\_\_

## 13. Dopolni trditve.

Večje hidroelektrarne so v Sloveniji postavljene na rekah: \_\_\_\_\_, \_\_\_\_\_ in \_\_\_\_\_.

Edina jedrska elektrarna pri nas je v \_\_\_\_\_. Med največjimi proizvajalkami električne energije je termoelektrarna v \_\_\_\_\_.

**14. Turizem je tudi v Sloveniji pomembna gospodarska dejavnost.** Napisanim turističnim središčem v Sloveniji pripiši vrsto turizma, ki je tam prevladujoča.

KRANJSKA GORA: \_\_\_\_\_

ROGAŠKA SLATINA: \_\_\_\_\_

PIRAN: \_\_\_\_\_

## 15. Z množičnim turizmom so povezane pozitivne in negativne posledice.

a) Oglej si fotografijo in pojasni dva negativna vpliva množičnega turizma na pokrajino.

- \_\_\_\_\_

- \_\_\_\_\_



**16. Na fotografiji je pojav, ki je značilen za nekatere predele Slovenije v hladni polovici leta.**



a) Kako imenujemo pojav?

\_\_\_\_\_

b) Pojasni, v čem se pojav razlikuje od običajnih vremenskih razmer.

\_\_\_\_\_

\_\_\_\_\_

17. Na gospodarstvo vplivajo naravni in družbeni pojavi. Oglej si fotografijo in z njeno pomočjo utemelji, zakaj so Alpske pokrajine manj primerne za kmetijstvo. Napiši dve utemeljitvi.



1. utemeljitev: \_\_\_\_\_

2. utemeljitev: \_\_\_\_\_

B) Dve učenki sta se oglasili z geografskimi novicami, ostale prilagam sama...

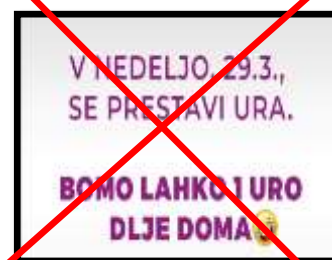
## GEOGRAFSKE NOVICE

### PREMIK URE na poletni čas (Če sploh še lahko govorimo o novici?)

Devetošolka Pia in šestošolka Anja sta me opomnili na prestavitev urnih kazalcev. Anja je zapisala, da ji je »prestavitev ure iz zimskega na poletni čas predstavljal največji izziv preteklega tedna«. Res je, marsikdo to situacijo doživlja precej stresno!



Torej, **v nedeljo, 29. 3. 2020, smo prešli iz zimskega na poletni čas.** Kazalce ur smo premaknili za eno uro naprej, ob 2:00 zjutraj na 3:00. Družabna omrežja je teden pred tem preplavila novica, ki naj bi nas nasmejala: »V nedeljo, 29.3., se prestavi ura. Bomo lahko 1 uro dlje doma 😊« Upam, da informaciji niste nasedli in da je niste brez premisleka »všečkali«, ker je bila povsem napačna. Ker smo uro premaknili naprej, smo spali 1 uro manj, torej smo bili dejansko 1 uro manj doma!



Zadnje čase veliko slišimo o tem, da v prihodnje ne bomo več premikali kazalcev.

O tem dogovori znotraj Evropske unije intenzivno potekajo.

Pa ste se kdaj vprašali, zakaj sploh premikamo kazalce? Poglejte si kratko video animacijo o tem:

<https://www.youtube.com/watch?v=RskekA7y210> (Infodrom: PREMIK URE)



## Nad Slovenijo ponovno viden METEOR

6. aprila 2020 smo pri poročilih zasledili kratko novico o ponovnem padcu meteorita na območju Slovenije. Oprijemljivih dokazov za to še ni. Očevdci govorijo o opaženem meteorju.

<https://siol.net/novice/slovenija/spet-meteor-nad-slovenijo-ste-ga-videli-522639>

## Razlikujete med pojmom METEOR in METEORIT?

### DAN ZDRAVJA



**7. april je Svetovni dan zdravja.** Letos je posvečen medicinskim sestram, zdravstvenim tehnikom in babicam.

Ravno ti so v času epidemije nepogrešljivi! Ploskamo jim in se jim zahvaljujemo. Prav je tako.

NACIONALNI INŠTITUT JAVNEGA ZDRAVSTVA:

<https://www.nijz.si/sl/7-april-2020-svetovni-dan-zdravja>



## 12. april – MEDNARODNI DAN VESOLJSKIH POLETOV S ČLOVEŠKO POSADKO

Generalna skupščina Združenih narodov je leta 2011 razglasila 12. april za Mednarodni dan vesoljskih poletov s človeško posadko.

12. aprila 1961 je v vesolje poletel prvi človek, to je bil

**Jurij Aleksejevič Gagarin**, ruski častnik, vojaški pilot, kozmonavt, novinar in heroj Sovjetske zveze.



Še veste? Že leta 1957 so v vesolje poskusno poslali psičko Lajko.

## KORONAVIRUS kot geografski fenomen?

Še vedno spremljamo širjenje koronavirusa, ukrepe za zajezitev širjenja, posledice na družbo, gospodarstvo...

Infodrom: KAJ JE RAZLIKA MED GRIPO IN KORONAVIRUSNO BOLEZNIJO?

<https://www.youtube.com/watch?v=HVK2i28wBsA>