

Lepo pozdravljeni, **OSMOŠOLCI** 😊 Čeprav smo doma, tedni hitro bežijo, kaj ne? Resnično upam, da ste vsi zdravi, **POLNI POZITIVNE ENERGIJE** in da se redno slišite z vrstniki ter tako ohranjate izredno pomembne socialne stike.

Hvala vsem, ki ste mi v preteklem tednu poslali povratne informacije o vašem delu. Vsakega odziva posebej sem iskreno vesela in skrbno jih beležim. Pred vami je **UTRJEVANJA ZNANJA**.

Gradivo tega tedna je sestavljeno iz treh sklopov:

- A) REŠITVE NALOG preteklega tedna;
- B) obvezno delo – UTRJEVANJE ZNANJA;
- C) neobvezne GEOGRAFSKE NOVICE.

Ko končate delo se mi v kratkem elektronskem sporočilu oglasite - najkasneje do petka, 17. aprila (do 14. ure). Napišite mi kako je šlo utrjevanje znanja in katero vprašanje vam je povzročilo največje težave. Še vedno sledimo geografskim novicam in čakam na vašo! Pa kaj na temo koronavirusa lahko ustvarite, če še niste, pa vam ostaja čas. Ob nerazumevanju učne snovi, navodil in nalog se lahko kadarkoli obrnete name, preko spodaj zapisanega elektronskega naslova:

[geografija.zalec@gmail.com](mailto:geografija.zalec@gmail.com) (učiteljica Tina Seibert)

V naslov sporočila (Zadeva) dosledno zapišite svoje podatke: **IME PRIIMEK RAZRED**

### Vklopi geografsko razmišljanje in akcija!

---

**A) S pomočjo rešitev preveri pravilnost odgovorov na naloge preteklega tedna.**

## REŠITVE NALOG: SEVERNA AMERIKA - GOSPODARSTVO

**Str. 78 - 1. naloga**

**A)** (obkroženi pojmi) sodobna mehanizacija, zaščitna sredstva, umetna gnojila, velike specializirane kmetije

**B)**

vpliv intenzivnega kmetijstva na pokrajino	ukrepi za zmanjševanje negativnega vpliva
- izkrčeno naravno rastlinstvo - erozija prsti - zaslanjevanje tal - onesnažena podtalnica, prst, reke,...	- novi namakalni sistemi (kapljično namakanje) - manjša uporaba gnojil, škropiv - sajenje rastlin, ki so bolj prilagojene na naravne razmere

**Str. 80 - 2. naloga**

**A)** Gvatemala, Haiti, Nikaragva. Države so gospodarsko slabše razvite.

**B)** Gospodarsko dobro razvite države so ZDA, Kanada, Slovenija (država je podana za primerjavo).

S kmetijstvom se ukvarja le manjši del prebivalstva, velik del prebivalstva je zaposlen v storitvenih dejavnostih.

**C) Panama:** velik del prihodkov dobijo od Panamskega prekopa.

**Mehika:** velika nahajališča nafte in zemeljskega plina v Mehiškem zalivu.

**Jamajka:** cilj številnih turistov.

**B) Pred tabo je utrjevanje znanja pridobljenega pri urah geografije v tem šolskem letu. Če imaš možnost, si spodnje naloge natisni in postopoma reši. Če te možnosti nimaš – nič hudega, si vprašanja in odgovore smiselno, skrajšano, zapiši v zvezek. Mogoče si izpišeš le naloge, na katere nisi znal odgovoriti.**

**OBVEZNO DELO**

**UTRJEVANJE ZNANJA**

**1. Pojasni pojma:**

STARI SVET

---

NOVI SVET

---

**2. Smiselno dopolni stavke.**

a) Afriko in Evropo ločuje \_\_\_\_\_ morje.

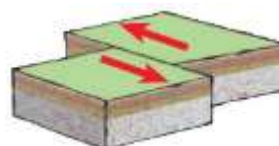
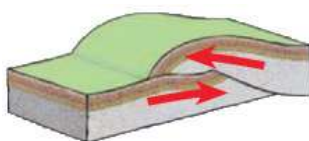
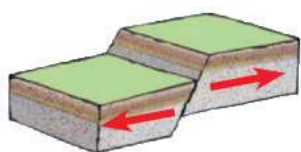
b) Afriko razdelimo na tri velike geografske enote: na \_\_\_\_\_, \_\_\_\_\_ in \_\_\_\_\_ Afriko.

c) Črta, ki ločuje severno in južno poloblo, se imenuje \_\_\_\_\_.

č) Puščava v jugozahodni Afriki ob Atlantskem oceanu je \_\_\_\_\_.

**3. Litosferske plošče.**

a) Pod vsako ilustracijo napiši, za kakšen premik litosferskih plošč gre.



b) Napiši 3 posledice premikanja litosferskih plošč:

---

---

#### 4. Odgovori na vprašanja.

a) Kaj je arteška voda?

---

b) Kdo so največji porabniki vode na svetu?

---

c) S katero težavo se soočajo prebivalci Sahela? \_\_\_\_\_  
Predlagaj en ukrep, s katerim bi težavo, ki si jo napisal/napisala, uspešno rešili.

---

#### 5. Rastlinstvo Afrike. Pod vsako fotografijo napiši

A: vrsto rastlinstva,

B: za katero podnebje je značilno.



A: \_\_\_\_\_

B: \_\_\_\_\_

#### 6. Gospodarstvo. Navedene trditve označi kot pravilne (P) ali nepravilne (N).

Intenzivna živinoreja je v veliki meri usmerjena v izvoz. \_\_\_\_\_

Ob obalah Sredozemskega morja je pomembno gozdarstvo. \_\_\_\_\_

Ob obali in velikih jezerih je pomembno ribištvo. \_\_\_\_\_

Afriški ribiči imajo sodobno opremo, s katero lahko konkurirajo tujim ladjam. \_\_\_\_\_

V Severni Afriki so številna nahajališča nafte in zemeljskega plina. \_\_\_\_\_

V Severni Afriki je zelo razvita tekstilna industrija in turizem. \_\_\_\_\_

#### 7. Natančno razloži spodnja pojma:

OAZA

---

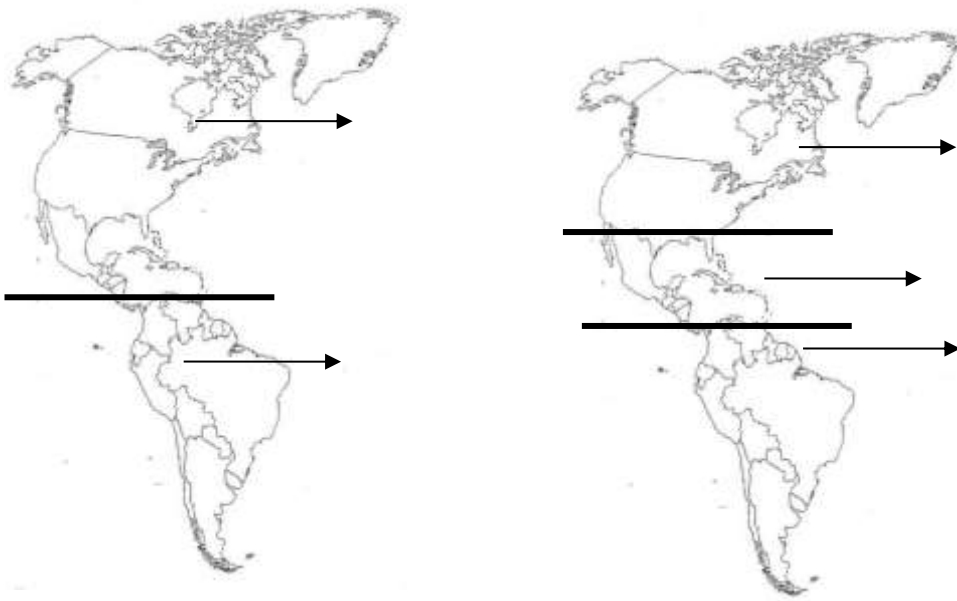
ZENITNE PADAVINE

---

---

**8. Ameriko lahko delimo na različne načine.**

Spodaj sta prikazani dve delitvi Amerike. Pravilno poimenuj posamezne dele. Odgovor zapiši poleg puščice.



**9. Na zemljevidu so s številkami označeni gorovji (1, 2), kotlina, nižavje (3), polotok (4), zaliva (5, 6), otok (7) in reka (8). Na prazne črte k številkam napiši ustrezno geografsko ime. Pomagaj si z atlasom.**

- 1 \_\_\_\_\_
- 2 \_\_\_\_\_
- 3 \_\_\_\_\_
- 4 \_\_\_\_\_
- 5 \_\_\_\_\_
- 6 \_\_\_\_\_
- 7 \_\_\_\_\_
- 8 \_\_\_\_\_



**10. Na podnebje vplivajo različni dejavniki.** Kraji na vzhodni strani Kordiljer prejmejo v povprečju manj kot 500 mm padavin letno. Pojasni, zakaj.

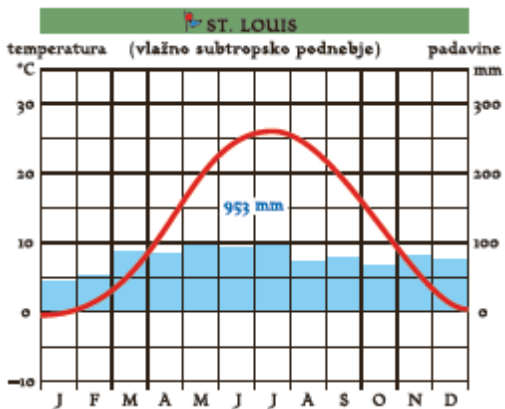
**11. Rastlinstvo je prilagojeno podnebju.**

a) Poimenuj rastlinstvo na fotografiji: \_\_\_\_\_

b) Za katero pokrajino v ZDA je značilno to rastlinstvo?



12. Oglej si klimograma in z njuno pomočjo opiši značilnosti podnebij (značilnosti podnebja v posameznih letnih časih, razporeditev padavin).



VLAŽNO SUBTROPSCO PODNEBJE:

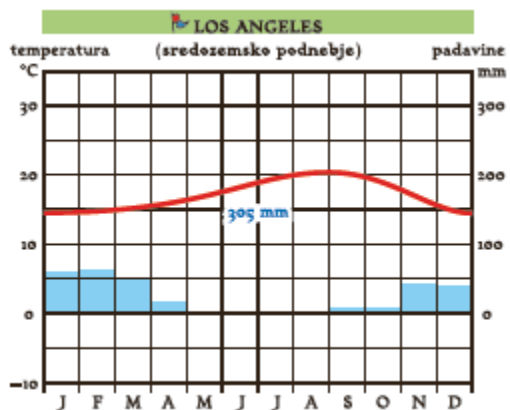
---



---



---



SREDOZEMSKO PODNEBJE:

---



---



---

13. So zelo uničujoči vremenski pojavi ...

a) Poimenuj pojav na fotografiji: \_\_\_\_\_

b) Pojasni, zakaj prihaja do tovrstnih pojavov?




---



---



---

14. Pravilno dopolni trditve.

V Kanadi in ZDA prevladujejo potomci nekdanjih \_\_\_\_\_ priseljencev.

\_\_\_\_\_ so v Ameriko priseljevali kot sužnje za delo na plantažah.

Mešanci med belci in Indijanci so \_\_\_\_\_.

Mešanci med belci in črnci so \_\_\_\_\_.

Prvotni prebivalci Severne Amerike pa so \_\_\_\_\_.

Največje mesto v Severni Ameriki je \_\_\_\_\_.

15. ZDA imenujemo »talilni lonec ljudstev«, vendar med prebivalci obstajajo velike razlike. Zapiši, kakšne prednosti ponuja bivanje v narodnostno mešanem okolju.

---

## 16. Za Kanado in ZDA je značilno intenzivno kmetijstvo.

a) Napiši tri značilnosti intenzivnega kmetijstva.

1. \_\_\_\_\_
2. \_\_\_\_\_
3. \_\_\_\_\_

## 17. Pojasni pojme.

HURIKAN

PANAMSKI PREKOP

STAROSELCI

## C) Dve učenki sta se oglasili z geografskimi novicami, ostale prilagam sama...

### GEOGRAFSKE NOVICE

#### PREMIK URE na poletni čas (Če sploh še lahko govorimo o novici?)

Devetošolka Pia in šestošolka Anja sta me opomnili na prestavitev urnih kazalcev. Anja je zapisala, da ji je »prestavitev ure iz zimskega na poletni čas predstavljala največji izziv preteklega tedna«. Res je, marsikdo to situacijo doživlja precej stresno!



Torej, **v nedeljo, 29. 3. 2020, smo prešli iz zimskega na poletni čas.** Kazalce ur smo premaknili za eno uro naprej, ob 2:00 zjutraj na 3:00. Družabna omrežja je teden pred tem preplavila novica, ki naj bi nas nasmejala: »V nedeljo, 29.3., se prestavi ura. Bomo lahko 1 uro dlje doma 😊« Upam, da informaciji niste nasedli in da je niste brez premisleka »všečkali«, ker je bila povsem napačna. Ker smo uro premaknili naprej, smo spali 1 uro manj, torej smo bili dejansko 1 uro manj doma!



Zadnje čase veliko slišimo o tem, da v prihodnje ne bomo več premikali kazalcev.

O tem dogovori znotraj Evropske unije intenzivno potekajo.

**Pa ste se kdaj vprašali, zakaj sploh premikamo kazalce?** Poglejte si kratko video animacijo o tem:

<https://www.youtube.com/watch?v=RskekA7y210> (Infodrom: PREMIK URE)

## Nad Slovenijo ponovno viden METEOR

6. aprila 2020 smo pri poročilih zasledili kratko novico o ponovnem padcu meteorita na območju Slovenije. Oprijemljivih dokazov za to še ni. Očevidci govorijo o opaženem meteorju.

<https://siol.net/novice/slovenija/spet-meteor-nad-slovenijo-ste-ga-videli-522639>

## Razlikujete med pojmom METEOR in METEORIT?

### DAN ZDRAVJA



**SVETOVNI DAN ZDRAVJA 2020**  
Podpirajmo zdravstvene delavce

-  skrbijo za zdravje celotne populacije
-  izkažite jim spoštovanje
-  v času epidemije COVID-19 sledite njihovim navodilom in priporočilom
-  ostanite doma in podprite njihovo delo

**7. april je Svetovni dan zdravja.** Letos je posvečen medicinskim sestram, zdravstvenim tehnikom in babcam.

Ravno ti so v času epidemije nepogrešljivi! Ploskamo jim in se jim zahvaljujemo. Prav je tako.

NACIONALNI INŠTITUT JAVNEGA ZDRAVSTVA:

<https://www.nijz.si/sl/7-april-2020-svetovni-dan-zdravja>



## 12. april – MEDNARODNI DAN VESOLJSKIH POLETOV S ČLOVEŠKO POSADKO

Generalna skupščina Združenih narodov je leta 2011 razglasila 12. april za Mednarodni dan vesoljskih poletov s človeško posadko.

12. aprila 1961 je v vesolje poletel prvi človek, to je bil

**Jurij Aleksejevič Gagarin**, ruski častnik, vojaški pilot, kozmonavt, novinar in heroj Sovjetske zveze.



**Še veste? Že leta 1957 so v vesolje poskusno poslali psičko Lajko.**

## KORONAVIRUS kot geografski fenomen?

Še vedno spremljamo širjenje koronavirusa, ukrepe za zajezitev širjenja, posledice na družbo, gospodarstvo...

**Infodrom: KAJ JE RAZLIKA MED GRIPO IN KORONAVIRUSNO BOLEZNIJO?**

<https://www.youtube.com/watch?v=HVK2i28wBsA>